


BÖLME İŞLEMİ (PAYLAŞTIRMA, GRUPLANDIRMA)

Aşağıdaki kalemleri bardaklara eşit olarak paylaşalım. Kaçar kalem düşer?




Her bardağa kalem düşer.

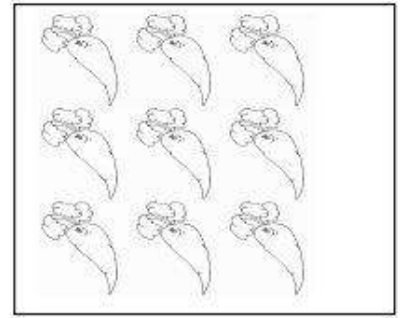
Aşağıdaki meyveleri üçerli gruplandırınız ve altına kaç grup oluşturduklarını yazınız.



Grup sayısı:

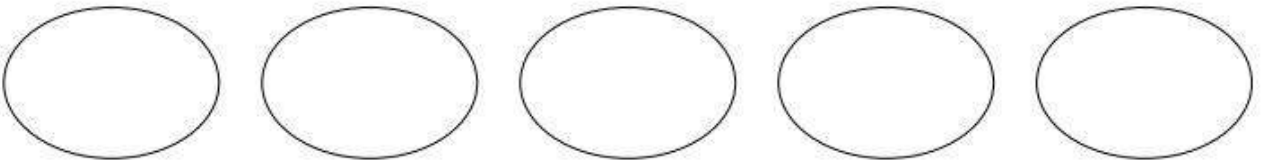



Grup sayısı:



Grup sayısı:

15 armudu 5 çocuk eşit olarak paylaşıyorlar. Her çocuk kaç armut alır?



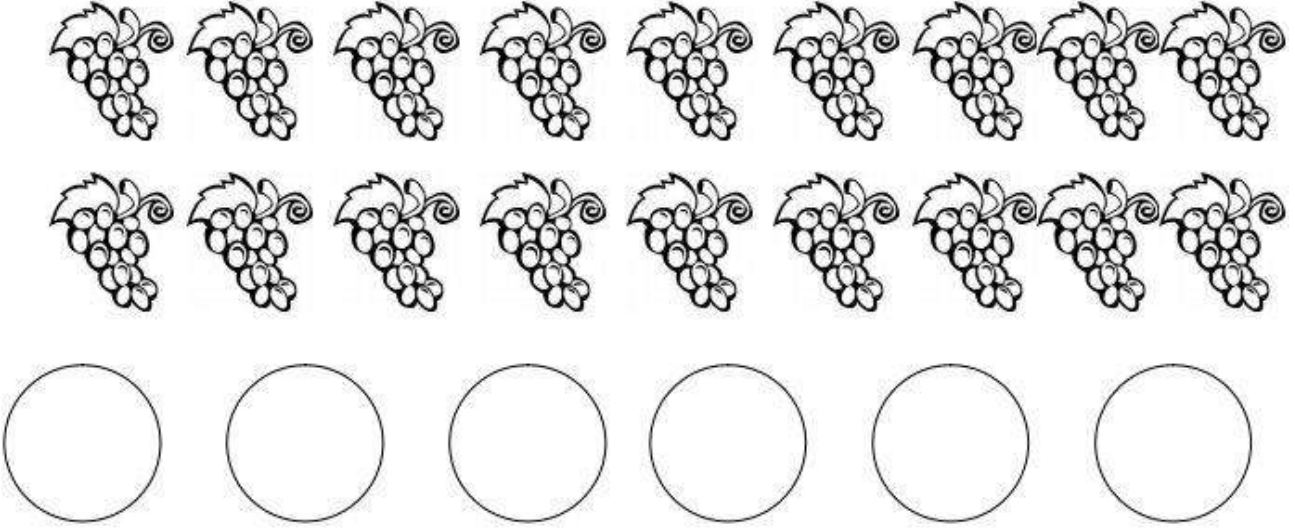
$$15 - 5 = \dots$$

$$10 - 5 = \dots$$

$$5 - 5 = \dots$$

5 çoğunu her birine elma düşer.

18 üzümü 6 kişi eşit olarak paylaşıyorlar. Kaçar üzüm düşer? (tabaklara okla taşıyın)




$$18 - 6 = \dots$$

$$12 - 6 = \dots$$

$$6 - 6 = \dots$$


6 kişinin her birine üzüm düşer

Aşağıdaki elmaları dörderli gruplandırınız.



Elmaları dörderli gruplandığı zaman; gruba elma düşer.

Kirazları beşerli gruplandırınız.



Kirazları dörderli gruplandığı zaman; gruba kiraz düşer.

Çilekleri ikişerli gruplandırınız.



Çilekleri dörderli gruplandığı zaman; gruba kiraz düşer.